








- Kurie gyvūnai yra stuburiniai?
  - varlė, gyvatė, ungurys
  - aštuonkojis, varlė, ungurys
  - voras, sliekas, skorpionas
  - skruzdėlė, voras, sliekas
  - banginis, ungurys, aštuonkojis
- Kokių naudingųjų iškasenų galima rasti Lietuvos žemėje?
  - smėlio
  - žvyro
  - molio
  - durpių
  - teisingi visi atsakymai
- Kurie organai nepriklauso kvėpavimo sistemai?
  - plaučiai
  - bronchai
  - trachėja
  - stemplė
  - nosis
- Kurių daiktų magnetai netraukia?
  -  Metalinių sąvaržėlių
  -  Vinių
  -  Plastikinių šaukštelių
  -  Žiogelių
  -  Geležinių drožlių
  - A
  - B
  - C
  - D
  - E
- Kurie gyvūnai yra šiltakraujai?
  - varliagyviai
  - žinduoliai
  - paukščiai
  - ropliai
  - teisingi B ir C atsakymai
- Kurios veislės šunys yra kalnuose pasiklydusių žmonių gelbėtojai?
  - vilkšuniai
  - laikos
  - senbernarai
  - spanieliai
  - škotų terjerai
- Be kurių augalo organų nebūtų vaisių?
  - žiedų
  - lapų
  - stiebo
  - šaknų
  - šaknų ir stiebo
- Kuo svarbūs kaulai ir raumenys mūsų organizmui?
  - leidžia judėti
  - apsaugo organus
  - palaiko mūsų kūno formą
  - suteikia atramą
  - teisingi visi atsakymai
- Nuo ko prasideda augalo gyvenimo ciklas?
  - nuo šaknies
  - nuo stiebo
  - nuo sėklos
  - nuo žiedo
  - nuo lapo
- Kai kurie gyvūnai savo būseną parodo uodega. Jeigu šuo įtempia uodegą...
  - draugiškas
  - išsigandęs
  - paklusnus
  - supykęs
  - alkanas
- Kodėl upėse vanduo būna šaltesnis nei ežeruose?
  - upės vanduo nuolat teka
  - tekančio vandens Saulė nespėja sušildyti
  - upėje vanduo nesimaišo
  - teisingi B ir C atsakymai
  - teisingi A ir B atsakymai
- Kurie kaulai sudaro ranką?
  - raktikaulis, dilbis, šlaunikaulis
  - dilbis, riešakauliai, žastikaulis
  - dubenkaulis, raktikaulis, dilbis
  - žastikaulis, delnakauliai, šlaunikaulis
  - dilbis, žastikaulis, šlaunikaulis
- Ko nereikėtų daryti žaibuojant?



- A) slėptis po pavieniais medžiais
- B) stovėti ant kalvos
- C) gultis ant žemės
- D) važiuoti dviračiu
- E) teisingi visi atsakymai

14. Koks paukštis Lietuvoje laikomas pelkių karaliene?

- A) lakštingala
- B) lingė
- C) gervė
- D) gulbė
- E) antis

Remdamiesi paveikslėliais, atsakykite į 15 ir 16 klausimus.

15. Kokių augalų uogos pavaizduotos paveikslėliuose?

Pažymėkite teisingą atsakymą.

B – šermukšnio

V – kadagio

G – pakalnutės

D – putino

E – žalčialunkio



1



2



3



4



5

- A) 1V
- B) 2B
- C) 3E
- D) 4G
- E) 5D

16. Kurios iš šių augalų uogos nevalgomos?

- A) 1 ir 3

- B) 1 ir 2
- C) 4 ir 5
- D) 2 ir 4
- E) 3 ir 4

17. Kurie gyvūnai nėra ropliai?

- A) gyvatės
- B) driežai
- C) salamandros
- D) vėžliai
- E) krokodilai

18. Koks vabzdys aprašytas?

Šis vabzdys turi dvi poras sparnelių ir skridamas garsiai dūzgia. Tai bendruomeninis vabzdys. Gyvena lizduose ant žemės ar po žeme. Iš žiedų renka nektarą. Šeimoje būna nuo 100 iki 300 narių: motinėle, patinėliai, darbininkės.

- A) musė
- B) vapsva
- C) širšė
- D) kamanė
- E) bitė

19. Kuris augalas numeta spyglius kiekvienais metais?



A) Eglė



B) Maumedis



C) Pušis



D) Kadagys



E) Kukmedis

20. Kurie paukščiai suka lizdus ne tik namų palėpėse, bet ir kaminuose?

- A) kuosas
- B) varnos
- C) kovai
- D) balandžiai
- E) teisingi A ir C atsakymai



21. Kurie debesys yra patys ploniausi ir aukščiausiai pakilę danguje?  
A) plunksniniai  
B) sluoksniniai  
C) kamuoliniai  
D) plunksniniai ir sluoksniniai  
E) teisingi A ir C atsakymai
26. Kaip bitės perduoda kitoms bitėms informaciją apie žiedadulkių ir nektaro radimvietes?  
A) plasnodamos sparneliais  
B) šoku  
C) atnešto maisto kvapu  
D) judindamos antenas  
E) teisingi B ir C atsakymai

22. Kurie iš šių gyvūnų grupių visi yra žinduoliai?  
A) ančiasnapis, delfinas, voverė  
B) beždžionė, šikšnosparnis, sraigė  
C) baublys, skruzdėlė, kurtis  
D) angis, lokys, delfinas  
E) kalmaras, vėžys, kiaunė
27. Kuriuos pirmuosius javus žmogus pradėjo sėti?  
A) rugius  
B) miežius  
C) kviečius  
D) avižas  
E) teisingi C ir D atsakymai

23. Kuris medis nenumeta žiemą lapų?  
A) uosis  
B) tuopa  
C) ąžuolas  
D) skroblas  
E) bukas
28. Iš kurių javų grūdų gaminami makaronai ir manų kruopos?  
A) rugių  
B) kviečių  
C) avižų  
D) miežių  
E) rugių ir miežių

Remdamiesi paveikslėliu, atsakykite į 24 ir 25 klausimus.

24. Kuo kvėpuoja paveikslėlyje pavaizduotas gyvūnas?



- A) oda  
B) plaučiais  
C) žiaunomis  
D) trachėjomis  
E) plaučiais ir oda
25. Kas nebūdinga paveikslėlyje pavaizduotam organizmui?  
A) turi 4 poras kojų  
B) maisto ieško naktį  
C) minta pūvančiais augalais, bestuburiais vandens gyvūnais, moliuskais  
D) gerai plaukia  
E) pavojaus atveju plaukia atbulas
29. Arkliai būna įvairaus plauko. Kas netinka šiose porose?  
A) juodbėris – beveik juodas arklys  
B) sartis – šviesiai rudas  
C) bėris – rudas su juodais karčiais  
D) šyvis – juodas arklys  
E) obuolmušis – rutuliukais dėmėtas arklys
30. Kokiais ženklais turi būti pažymėti mūsų šalyje pagaminti ekologiški produktai?



A



B



C



D

- A) A ir C  
B) A ir B  
C) A ir D  
D) B ir C  
E) B ir D

**31. Koks paukštis aprašytas?**

Tai nedidelis, smulkesnis už žvirblį paukštis. Uodega ilga, kojos ilgos ir plonos. Skrenda banguodamas. Atrodo, tai negreitas paukštis, bet žiemoti skrenda į pietų Europą ir Afriką. Dažnai pamatysime ne skrendantį, o bėgantį.

- A) kielė
- B) kregždė
- C) vieversys
- D) lakštingala
- E) volungė

**32. Kurių medžių mediena labiau tinka popieriui gaminti?**

- A) uosių
- B) klevų
- C) pušų
- D) beržų
- E) ąžuolų

**33. Kuris atsakymas teisingai nurodo paveikslėlyje pavaizduotų javų pavadinimą?**

A



B



C



D

- A) A – kviečiai
- B) B – avižos
- C) C – miežiai
- D) D – rugiai
- E) teisingi visi atsakymai

**34. Kurie javai gali būti sėjami ne tik pavasarį, bet ir rudenį?**

- A) rugiai

- B) kviečiai
- C) miežiai
- D) avižos
- E) teisingi A ir B atsakymai

**35. Kas šikšnosparniams padeda orientuotis naktį aplinkoje?**

- A) ausys
- B) akys
- C) kojos
- D) sparnai
- E) uodega

**36. Vitaminai apsaugo organizmą nuo ligų, padeda augti. Kuo ypač svarbus vitaminas B?**

- A) sveikai odai
- B) geram regėjimui
- C) stiprina nervų sistemą
- D) reikalingas dvasios tvirtybei
- E) teisingi C ir D atsakymai

**37. Kuriuose maisto produktuose neraskime B grupės vitaminų?**

- A) vaisiuose
- B) rupioje duonoje
- C) mielėse
- D) piene
- E) kiaušiniuose

**38. Kuriuo būdu cukrų galima greičiau ištirpinti vandenyje?**

- A) subėrus cukrų į šiltą vandenį ir maišant
- B) subėrus cukrų į šaltą vandenį ir maišant
- C) subėrus cukrų į karštą vandenį ir maišant
- D) subėrus cukrų į karštą vandenį ir nemišant
- E) subėrus cukrų į šaltą vandenį ir intensyviai maišant

**39. Kuris teiginys apie ekologinį ūkį neteisingas?**

- A) pasėliai nuo kenkėjų purškiami cheminėmis medžiagomis
- B) dirva tręšiama mėšlu ir pūdiniu
- C) pasėliai purškiami natūralių medžiagų mišiniais
- D) dirva tręšiama natūraliomis trąšomis
- E) teisingi C ir D atsakymai

**40. Kuri energijos rūšis yra atsinaujinanti?**

- A) geoterminė
- B) naftos produktų
- C) durpių
- D) akmens anglių
- E) gamtinių dujų